



education

Department:
Education
North West Provincial Government
REPUBLIC OF SOUTH AFRICA

PROVINSIALE ASSESSERING

GRAAD 11

**EKONOMIE V2
NOVEMBER 2024**

PUNTE: 150

TYD: 2 uur

Hierdie vraestel bestaan uit 12 bladsye.

INSTRUKSIES EN INLIGTING

1. Beantwoord VIER vrae soos volg in die ANTWOORDEBOEK:

AFDELING A: VERPLIGTEND
AFDELING B: Beantwoord TWEE van die drie vrae.
AFDELING C: Beantwoord EEN van die twee vrae.
2. Beantwoord slegs die vereiste getal vrae. Addisionele antwoorde sal NIE nagesien word NIE.
3. Nommer die antwoorde korrek volgens die nommeringstelsel wat in hierdie vraestel gebruik is.
4. Skryf die vraagnommer boaan elke antwoord.
5. Lees die vrae aandagtig deur.
6. Begin ELKE vraag op 'n NUWE bladsy.
7. Laat 2–3 reëls tussen onderafdelings van vrae oop.
8. Beantwoord die vrae in volsinne en maak seker dat die formaat, inhoud en konteks van jou antwoorde aan die kognitiewe vereistes van die vrae voldoen.
9. Gebruik slegs swart of blou ink.
10. Jy mag 'n nieprogrammeerbare sakrekenaar gebruik.
11. Skryf netjies en leesbaar.

AFDELING A (VERPLIGTEND)**VRAAG 1****30 PUNTE – 20 MINUTE**

- 1.1 Verskeie opsies word as moontlike antwoorde op die volgende vrae gegee. Kies die antwoord en skryf slegs die letter (A–D) langs die vraagnommers (1.1.1 tot 1.1.8) in die ANTWOORDEBOEK neer, bv. 1.1.9 D.
- 1.1.1 Die ... prys van 'n produk dui aan of die produk goedkoper of duurder is in vergelyking met 'n ander produk.
- A absolute
 - B rak
 - C relatiewe
 - D direkte
- 1.1.2 Die individuele besigheid binne die perfekte mark sal ... wins maak in die langtermyn.
- A normale
 - B nul
 - C ekonomiese
 - D bonormale
- 1.1.3 Wanneer die vraag na 'n produk afneem met 'n toename in inkomste, is dit 'n ... produk.
- A abnormale
 - B meerderwaardige
 - C normale
 - D minderwaardige
- 1.1.4 Wanneer 'n produk ... is, moet produsente pryse verlaag om inkomste te verhoog.
- A relatief elasties
 - B volmaak elasties
 - C unitêr elasties
 - D volmaak onelasties
- 1.1.5 ... is die praktyk om beheer oor 'n ander land te neem.
- A Kapitalisme
 - B Kolonialisme
 - C Ideologie
 - D Uitbuiting

1.1.6 Die ... monitor internasionale handelsooreenkomste.

- A Internasionale Monetêre Fonds
- B Wêreldhandelsorganisasie
- C Wêreldbank
- D Algemene Ooreenkoms oor Tariewe en Handel

1.1.7 ... is 'n beleid wat daarna streef om 'n basiese lewensgehalte vir alle mense te bied.

- A Koolstofkrediete
- B Internasionale protokolle
- C Volhoubare ontwikkeling
- D SMOG

1.1.8 Die omgewingsheffing op koolstofdiksied-vrystellings van nuwe motor voertuie wat in Suid-Afrika vervaardig word.

- A Bemerkbare permitte
- B Kwaliteit standaarde
- C Vrywillige ooreenkomste
- D Groenbelasting

(8 x 2) (16)

1.2 Kies 'n beskrywing uit KOLOM B wat by die item in KOLOM A pas. Skryf slegs die letter (A–I) langs die vraagnommers (1.2.1 tot 1.2.8) in die ANTWOORDEBOEK, bv. 1.2.9 J.

KOLOM A	KOLOM B
1.2.1 Inflasie	A 'n reusemaatskappy met takke in ander lande
1.2.2 Korttermyn	B lone, elektrisiteit en brandstof
1.2.3 Nutseenheid	C 'n volgehoue verhoging in die algemene prysvlak
1.2.4 Komplimentêre produkte	D unieke produkte
1.2.5 Ontbossing	E nie alle kostes kan aangepas word nie
1.2.6 Heterogeen	F bevrediging verkry uit die verbruik van goedere en dienste
1.2.7 Veranderlike koste	G vernietiging van woude om plek te maak vir behuising
1.2.8 Multinasionale korporasie	H goedere wat in samewerking met mekaar gebruik word
	I totale bevrediging van die verbruik van plaasvervangers

(8 x 1) (8)

- 1.3 Gee EEN term vir ELK van die volgende beskrywings. Skryf slegs die term langs die vraagnommers (1.3.1 tot 1.3.6) in die ANTWOORDEBOEK neer. Afkortings, akronieme en voorbeelde sal NIE aanvaar word NIE.
- 1.3.1 Vraag word net gevra ter wille van wat dit kan lewer en nie om sy eie onthalwe nie
- 1.3.2 Groot besighede wat gewoonlik prysveranderinge in die mark inisieer
- 1.3.3 Lande wat nuwe beleggingsgeleenthede bied
- 1.3.4 Die verwydering van handelsversperrings tussen lande
- 1.3.5 Beweging van mense uit landelike gebiede na stedelike gebiede
- 1.3.6 Gasse wat hitte in die atmosfeer vasvang (6 x 1) (6)

TOTAAL AFDELING A: 30

AFDELING B

Beantwoord enige TWEE van die drie vrae in hierdie afdeling in die ANTWOORDEBOEK.

VRAAG 2: MIKRO-EKONOMIE**40 PUNTE – 30 MINUTE**

2.1 Beantwoord die volgende vrae.

2.1.1 Noem TWEE produksiefaktore. (2 x 1) (2)

2.1.1 Hoekom sal 'n besigheid kostes hê, wanneer produksie nul is? (1 x 2) (2)

2.2 Bestudeer die spotprent hieronder en beantwoord die vrae wat volg.



[Bron: <https://siddharthnair98.medium.com/cola-war>]

2.2.1 Noem EEN produk handelsmerk wat in die spotprent hierbo uitgebeeld word. (1)

2.2.2 Identifiseer die verwantskap tussen die produkte in die spotprent hierbo. (1)

2.2.3 Beskryf kortliks die term *monopolistiese mededinging*. (2)

2.2.4 Hoekom sal verskaffers van hierdie tipe produkte aanbevole verkoopspryse hê? (1 x 2) (2)

2.2.5 Hoe kommunikeer verskaffers in hierdie marksegment hul uniekheid aan verbruikers? (2 x 2) (4)

2.3 Bestudeer die tabel hieronder en beantwoord die vrae wat volg.

TOTALE KOSTE SKEDULE					
Hoeveelheid	Vaste koste (VK)	Veranderlike koste (VK)	Totale koste (TK)	Gemiddelde koste (GK)	Marginale koste (MK)
0	R100	R0	R100	R0	R0
5	R100	R90	R190	R38	R18
10	R100	R190	R290	R29	R20
15	R100	R320	R420	R28	R26
20	R100	R460	R560	R28	R28
25	R100	R650	R750	R30	R38
30	R100	R860	R960	R32	R42
35	R100	R1 160	R1 260	R36	R60
40	R100	R1 500	R1 600	R40	R68

- 2.3.1 Identifiseer die skedule in die tabel hierbo. (1)
- 2.3.2 Wat is die totale koste (TK) om 35 eenhede te vervaardig? (1)
- 2.3.3 Beskryf kortliks die term *skaalbesparing*. (2)
- 2.3.4 Verduidelik die konsep *langtermyn* in terme van koste in 'n besigheid. (2)
- 2.3.5 Verduidelik die vorm van die marginale kostekromme (MK). (2 x 2) (4)
- 2.4 Verduidelik met behulp van 'n grafiek hoe 'n onderneming sy wins maksimaliseringsvlak kan bepaal. (2 x 4) (8)
- 2.4 Onderzoek die implikasie van nie-prysmededinging op oligopolie. (4 x 2) (8)
- [40]**

VRAAG 3: KONTEMPORÊRE EKONOMIESE KWESSIES 40 PUNTE – 30 MINUTE

3.1 Beantwoord die volgende vrae.

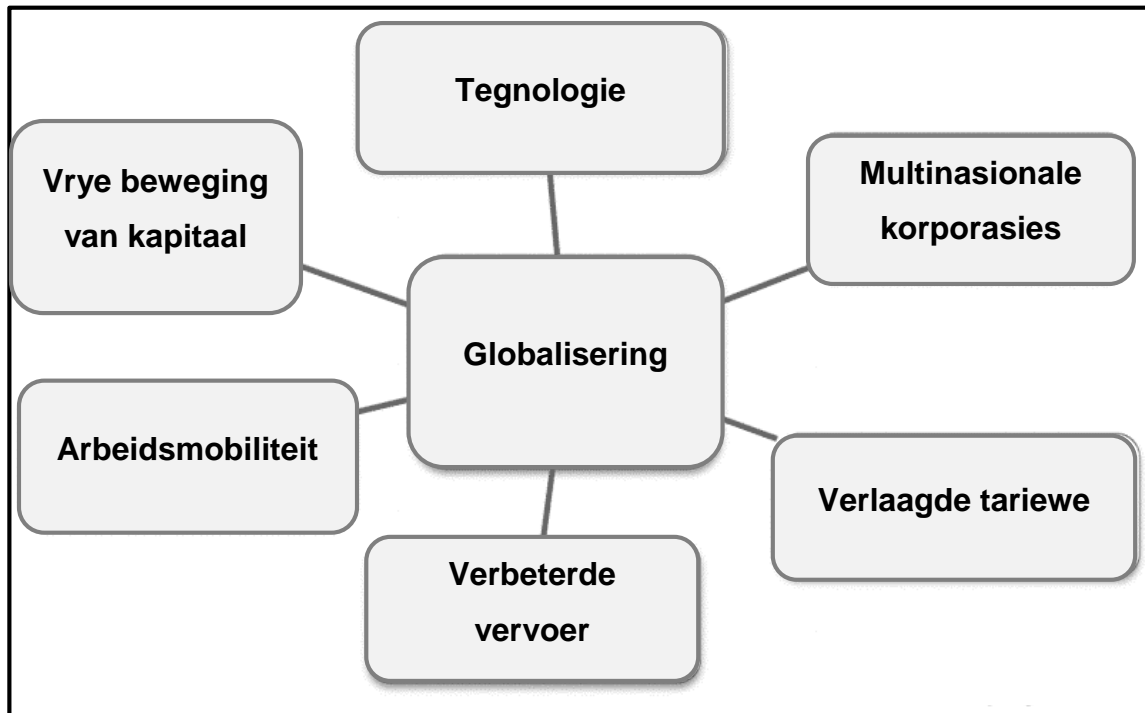
Kopiereg voorbehou

Blaai om asseblief

3.1.1 Noem enige TWEE multinasionale ondernemings wat in Suid - Afrika handeldryf. (2 x 1) (2)

3.1.2 Verduidelik die verband tussen armoede en omgewingsverval. (1 x 2) (2)

3.2 Bestudeer die diagram hieronder en beantwoord die vrae wat volg.



[Bron: <https://www.economicshelp.org/blog>]

3.2.1 Identifiseer EEN oorsaak van globalisering in die diagram hierbo. (1)

3.2.2 Noem EEN organisasie wat betrokke is by die bevordering van globalisering. (1)

3.2.3 Beskryf kortliks die term *globalisering*. (2)

3.2.4 Hoekom dryf lande handel? (1 x 2) (2)

3.2.5 Verduidelik die belangrikheid van die verbetering van infrastruktuur op die groei in globalisering. (2 x 2) (4)

3.3 Bestudeer die uittreksel hieronder en beantwoord die vrae wat volg.

OMGEWING (BUITELUG) LUGBESOEDING

Sleutelfeite:

Lugbesoedeling is een van die grootste omgewingsrisiko's vir gesondheid. Deur die vlakke van lugbesoedeling te verminder, kan lande die las van siektes soos beroertes, hartsiektes, longkanker en beide chroniese en akute respiratoriese siektes, insluitend asma, verminder.

In 2019 het 99% van die wêreld se bevolking op plekke gewoon waar die WGO se luggehalte-riglyne nie nagekom is nie.

Die gekombineerde uitwerking van omgewingslugbesoedeling en huishoudelike lugbesoedeling word jaarliks met 6,7 miljoen voortydige sterftes geassosieer.

Omringende (buitelug) lugbesoedeling het na raming 4,2 miljoen voortydige sterftes wêreldwyd in 2019 veroorsaak.

Sowat 89% van daardie voortydige sterftes het in lae- en middelinkomstelande voorgekom, en die grootste getal in die WGO se Suidoos-Asië en Westelike-Stille Oseaan streke.

Beleide en beleggings wat skoner vervoer, energiedoeltreffende huise, kragopwekking, nywerheid en beter munisipale afvalbestuur ondersteun, sal sleutelbronne van buitelugbesoedeling verminder. Toegang tot skoon huishoudelike energie sal ook omgewingslugbesoedeling in sommige streke aansienlik verminder.

[Bron: <https://www.who.int/news-room/fact-sheets>]

- 3.3.1 Noem die gesondheidsorganisasie wat die navorsing saamgestel het in die uittreksel hierbo. (1)
- 3.3.2 Identifiseer die bruin omgewingskwessie wat in die uittreksel hierbo bespreek is. (1)
- 3.3.3 Beskryf kortliks die term *geneties gemodifiseerde organismes*. (2)
- 3.3.4 Verduidelik die impak van CO₂ (koolstofdiksied) vrystellings op die Suid-Afrikaanse ekonomie. (1 x 2) (2)
- 3.3.5 Hoe kan Suid-Afrika hul 350 – 420 MtCO_{2e} (metrieke ton koolstofdiksied-ekwivalent) teiken bereik teen 2030? (2 x 2) (4)
- 3.4 Bespreek die doelwitte van die Wêreldhandelsorganisasie. (4 x 2) (8)
- 3.5 Analiseer *landbou-ontwikkeling, ontbossing en gronddegradasie* as probleme wat die omgewing bedreig. (2 x 4) (8)

[40]

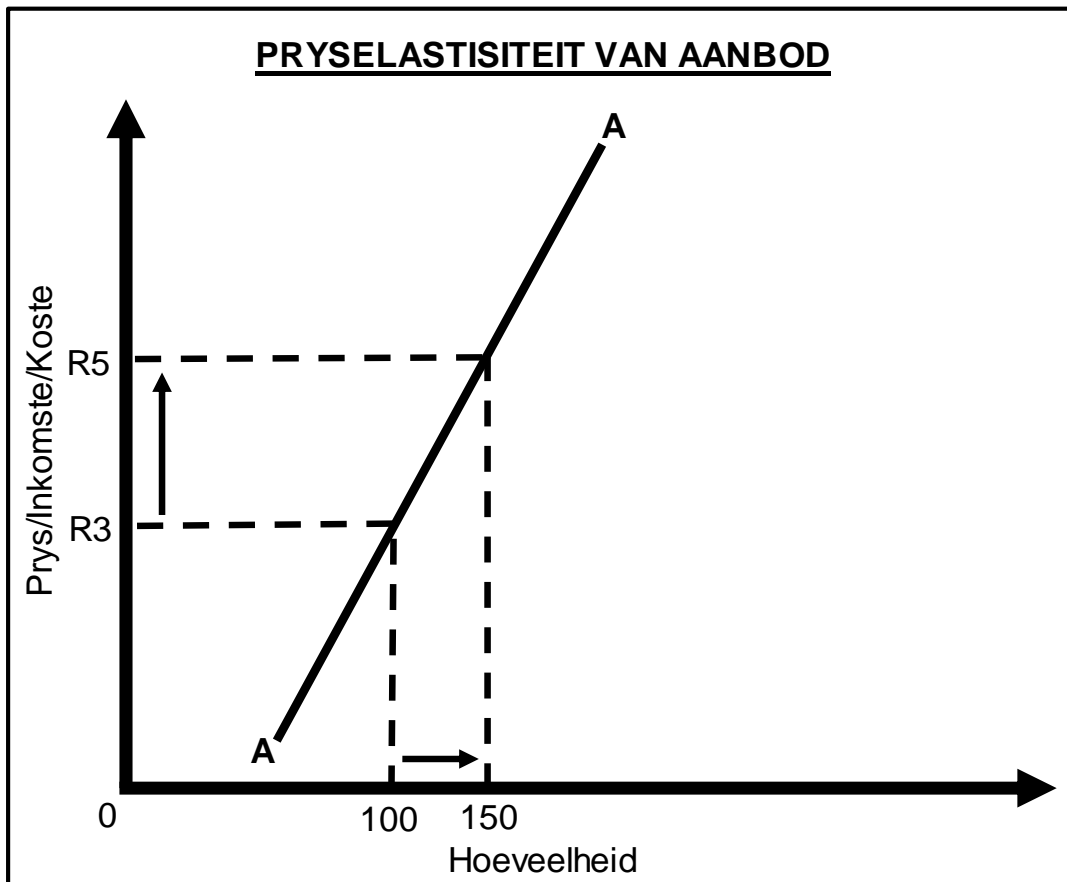
VRAAG 4: MIKRO-EKONOMIE EN KONTEMPORÊRE EKONOMIESE KWESSIES
40 PUNTE – 30 MINUTE

4.1 Beantwoord die volgende vrae.

4.1.1 Noem enige TWEE produkte waar vraag nie deur prysstygings of prysdalings beïnvloed word nie. (2 x 1) (2)

4.1.2 Hoe verbeter handelsliberalisering ekonomiese ontwikkeling? (1 x 2) (2)

4.2 Bestudeer die grafiek hieronder en beantwoord die vrae wat volg.



4.2.1 Noem die tipe pryselastisiteit van aanbod wat in die grafiek hierbo geïllustreer word. (1)


4.2.2 Identifiseer die hoeveelheid verskaf, teen R5,00 per eenheid. (1)

4.2.3 Beskryf kortliks die term *pryselastisiteit van aanbod*. (2)

4.2.4 Hoekom kan 'n boer nie die aanbod van sy produk verhoog as die prys van sy produk verhoog nie? (1 x 2) (2)

4.2.5 Bereken pryselastisiteit van aanbod (PEA). Toon ALLE berekeninge. (2 x 2) (4)

4.3 Bestudeer die spotprent hieronder en beantwoord die vrae wat volg.



[Bron: <https://www.nbcnews.com/news/world/five-great-earth-day-cartoons>]

- 4.3.1 Identifiseer die omgewingsdag wat in die spotprent hierbo gevier word. (1)
- 4.3.2 Noem die belangrikheid daarvan om mense bewus te maak van die toestand van die omgewing. (1)
- 4.3.3 Beskryf kortliks die term *volhoubare ontwikkeling*. (2)
- 4.3.4 Verduidelik hoe Suid-Afrika wetgewing gebruik om die omgewing te beskerm. (1 x 2) (2)
- 4.3.5 Hoe sal prysgedrewe metodes geïmplementeer word om die impak van besoedeling te verminder? (2 x 2) (4)
- 4.4 Bespreek kortliks die faktore wat die elasticiteit van vraag bepaal. (4 x 2) (8)
- 4.5 Evalueer direkte buitelandse investering as 'n rede vir globalisering. (4 x 2) (8)
- [40]**

TOTAAL AFDELING B: 80

AFDELING C**40 PUNTE – 40 PUNTE**

Beantwoord enige EEN van die twee vrae in hierdie afdeling in die ANTWOORDEBOEK.

Jou antwoord sal soos volg geassesseer word:

STRUKTUUR VAN DIE OPSTEL	PUNTE-TOEKENNING
Inleiding Die inleiding is die laerorde-antwoord. <ul style="list-style-type: none"> • 'n Goeie begin is om die sleutelkonsep wat met die vraag verband hou, te definieer of te omskryf. • MOENIE enige deel van die vraag by die inleiding insluit NIE. • MOENIE enige deel van die inleiding by die liggaam herhaal NIE. • MOENIE in die inleiding noem wat jy in die liggaam gaan bespreek NIE. 	Maks. 2
Liggaam Hoofdeel: Bespreek in detail/Diepgaande bespreking/Ondersoek/ Bespreek krities/Analiseer/Vergelyk/Evalueer/Onderskei/Differensieer/ Verduidelik/Assesseer/Debatteer/Teken 'n grafiek en verduidelik 'n Maksimum van 8 punte kan vir opskrifte/voorbeelde toegeken word. Bykomende deel: Bespreek krities/Evalueer/Evalueer krities/Lei af/ Vergelyk/Onderskei/Stel voor/Interpreteer/Debatteer/Hoe/Stel voor/Analiseer 'n Maksimum van 2 punte kan vir die blote noem van feite toegeken word.	Maks. 26 Maks. 10
Slot Enige hoërorde-slot behoort die volgende insluit: <ul style="list-style-type: none"> • 'n Kort samevatting van wat alreeds bespreek is, sonder die herhaling van feite wat reeds genoem is • Enige mening/opinie of waardeoordeel oor die feite wat bespreek is • Addisionele ondersteuningsinligting wat die bespreking/analise te versterk • 'n Teenstrydige sienswyse met motivering, indien gevra • Aanbevelings 	Maks. 2
TOTAAL:	40

VRAAG 5: MIKRO-EKONOMIE**40 PUNTE – 40 MINUTE**

- Bespreek in detail die kenmerke van volmaakte markte en monopolieë. (26)
 - Analiseer die verskillende tipes doelwitte wat 'n sakeonderneming moet bereik. (10)
- [40]**

VRAAG 6: MIKRO-EKONOMIE**40 PUNTE – 40 MINUTE**

- Debatteer die positiewe en negatiewe gevolge van globalisering. (26)
 - Analiseer die impak van die Noord/Suid-verdeling op globalisering. (10)
- [40]**

TOTAAL AFDELING C: 40
GROOTTOTAAL: 150