



education

Department:
Education
North West Provincial Government
REPUBLIC OF SOUTH AFRICA

PROVINSIALE ASSESSERING

GRAAD 10

EKONOMIE V1

NOVEMBER 2024

TOTAAL: 150

TYD: 2 uur

Hierdie vraestel bestaan uit 13 bladsye.

INSTRUKSIES EN INLIGTING:

1. Beantwoord VIER vrae soos volg in die ANTWOORDEBOEK:

AFDELING A: VERPLIGTEND

AFDELING B: Beantwoord TWEE van die drie vrae.

AFDELING C: Beantwoord EEN van die twee vrae.

2. Beantwoord slegs die vereiste getal vrae. Addisionele antwoorde sal NIE nagesien word NIE.
3. Nommer die antwoorde volgens die nommeringstelsel wat in hierdie vraestel gebruik is.
4. Skryf die vraagnommer boaan elke antwoord.
5. Lees die vrae aandagtig deur.
6. Begin ELKE vraag op 'n NUWE bladsy.
7. Laat 2–3 reëls tussen onderafdelings van vrae oop.
8. Beantwoord die vrae in volsinne en maak seker dat die formaat, inhoud en konteks van jou antwoorde aan die kognitiewe vereistes van die vrae voldoen.
9. Gebruik slegs swart of blou ink.
10. Jy mag 'n nieprogrammeerbare sakrekenaar gebruik.
11. Skryf netjies en leesbaar.

AFDELING A (VERPLIGTEND)**VRAAG 1****30 PUNTE – 20 MINUTE**

1.1 Verskeie opsies word as moontlike antwoorde vir die volgende vrae gegee. Kies die antwoord en skryf slegs die letter (A–D) langs die vraagnommers (1.1.1 tot 1.1.8) in die ANTWOORDEBOEK neer, bv. 1.1.9 D.

1.1.1 Watter EEN van die volgende val nie binne die ekonomiese studierigting nie?

- A Skaars hulpbronne.
- B Keuse
- C Wat mense moet koop
- D Geleentheidskoste

1.1.2 Die term wat die feit dat mense onbeperkte behoeftes en begeertes het, met beperkte hulpbronne om hulle te bevredig is ...

- A die ekonomiese probleem.
- B oorfloed.
- C produksiefaktore.
- D takke van ekonomie.

1.1.3 Wanneer nuwe geld by die ekonomiese kringloop bygevoeg word, staan dit bekend as ...

- A besparings.
- B winste.
- C lekkasies.
- D inspuitings.

1.1.4 Die inkomste wat 'n individu beskikbaar het om te spandeer en te spaar nadat belasting betaal is, staan bekend as ...

- A reële inkomste.
- B besteebare inkomste.
- C nominale inkomste.
- D bruto inkomste.

1.1.5 Gedurende die Middeleeue het padnetwerke langs gewilde roetes ontwikkel as gevolg van ...

- A toerisme.
- B besoek aan vriende en familie.
- C handel.
- D selfgenoegsaamheid.

- 1.1.6 Die studierigtings wat handel oor gebruike en praktyke van plaaslike en internasionale handel word genoem ...
- A politieke wetenskap.
 - B gemenereg.
 - C sosiale wetenskap.
 - D handelsreg.
- 1.1.7 Watter een van die volgende bevolkingsgroepe kan geklassifiseer word as ekonomies aktief?
- A 15 tot 60 jaar.
 - B Leerders wat skool bywoon.
 - C Mense 65 jaar en ouer.
 - D Mense wat 14 jaar en jonger is.
- 1.1.8 Die verskil tussen die geboortesifer en sterftesifer van 'n land word die ... genoem.
- A bevolkingstekort
 - B natuurlike groeitempo
 - C migrasietempo
 - D aktiewe bevolkingskoers
- (8 x 2) (16)

1.2 Kies 'n beskrywing uit KOLOM B wat by die item in KOLOM A pas. Skryf slegs die letter (A – I) langs die vraagnommers (1.2.1 tot 1.2.8) in die ANTWOORDEBOEK neer, bv. 1.2.9 J.

KOLOM A	KOLOM B
1.2.1 Produksie	A die produksie aktiwiteite betrokke by die verspreiding van goedere en die verskaffing van dienste aan die publiek
1.2.2 Tersiêre bedryf	
1.2.3 Spesialisasie	B wanneer 'n besigheid spesialiseer in die produksie van een produk of diens
1.2.4 Ruil	
1.2.5 MIV/ VIGS	C die proses waardeur produkte beweeg van produsent tot verbruiker
1.2.6 Immigrasie	D proses waardeur 'n entrepreneur die beskikbare hulpbronne kombineer en dit verander in 'n soort produk wat gebruik word om die behoeftes en begeertes te bevredig van die bevolking
1.2.7 Inligting nedersettings	
1.2.8 Informele sektor	E ontwikkel aan die buitewyke van Suid-Afrikaanse stede as gevolg van 'n behuising agterstand
	F lei tot die verlies van ekonomiese aktiewe familieledede en sosiale probleme
	G sluit mikrobeseighede soos straatverkopers in
	H buitelanders wat 'n land binnekom op 'n permanente basis
	I plaaslike inwoners wat hul land verlaat op 'n permanente basis

(8 x 1) (8)

1.3 Gee EEN term vir elk van die volgende beskrywings. Skryf slegs die term langs die vraagnommers (1.3.1 tot 1.3.6) in die ANTWOORDEBOEK neer. Afkortings, akronieme en voorbeelde sal NIE aanvaar word NIE.

1.3.1 Die aanname wat beteken 'alle ander dinge is gelyk'

1.3.2 Die waarde van die beste alternatief wat opgeoffer is

1.3.3 'n Ekonomie wat die buitelandse sektor uitsluit

1.3.4 Die wêreldwye integrasie van markte en produksie

1.3.5 'n Organisasie van werkers wat kombineer om gemeenskaplike doelwitte soos beter werksomstandighede te bereik

1.3.6 Die proporsie van die ekonomiese aktiewe bevolking wat indiensneming vind in die formele sektor van die ekonomie (6 x 1) (6)

TOTAAL AFDELING A: 30

AFDELING B

Beantwoord enige TWEE van die drie vrae in hierdie afdeling in die ANTWOORDEBOEK.

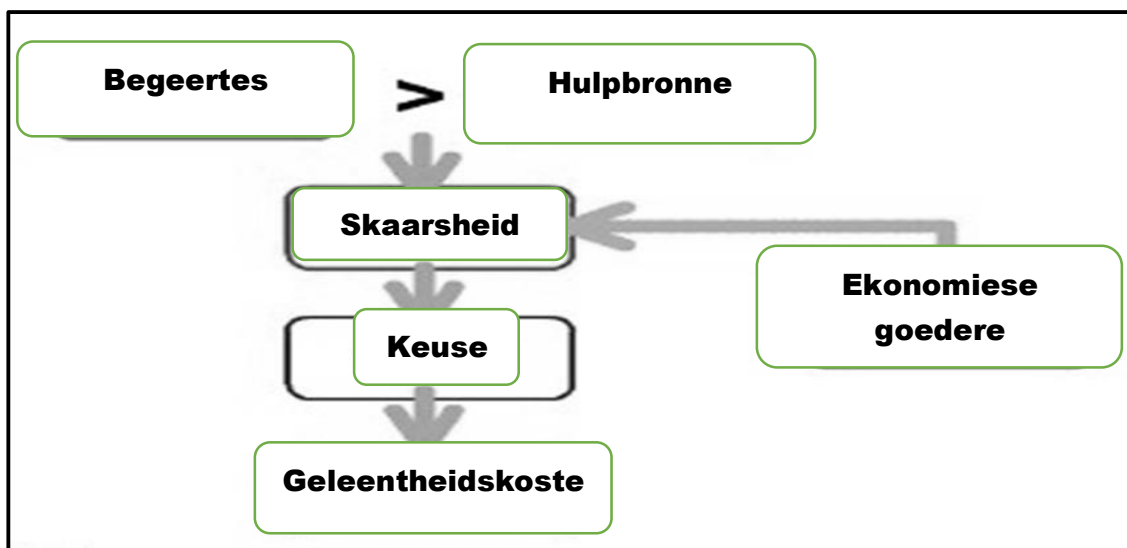
VRAAG 2: MIKRO-EKONOMIE**40 PUNTE – 30 MINUTE**

2.1 Beantwoord die volgende vrae.

2.1.1 Noem TWEE breë benaderings tot ekonomie. (2 x 1) (2)

2.1.2 Hoe sal die neem van wiskunde by die skool jou help om 'n ekonoom te word? (1 x 2) (2)

2.2 Bestudeer die diagram hieronder en beantwoord die vrae wat volg.



[Bron: www.sy-eco.org]

2.2.1 Identifiseer uit die diagram hierbo die term wat goedere en dienste beskryf waarsonder individue kan lewe. (1)

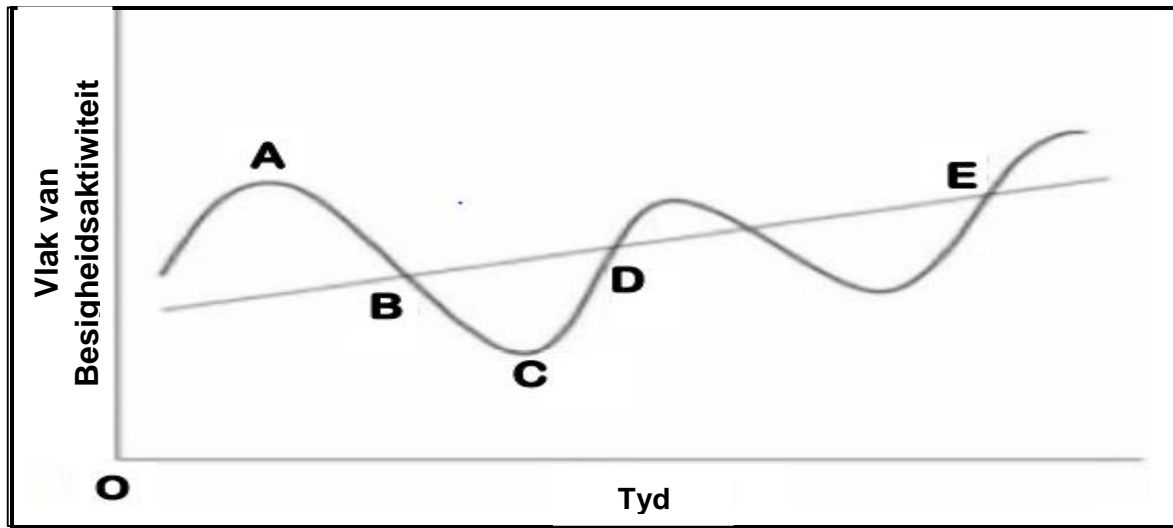
2.2.2 Noem EEN vraag wat ekonome vra om die ekonomiese probleem op te los (1)

2.2.3 Beskryf kortliks die term *skaarsheid*. (2)

2.2.4 Verduidelik waarom daar na ekonomie verwys word as sosiale wetenskap. (2)

2.2.5 Hoekom moet mense keuses maak? (2 x 2) (4)

2.3 Bestudeer die diagram hieronder en beantwoord die vrae wat volg.



[Bron:Ekonomie handbook: Fokus]

- 2.3.1 Voorsien die diagram hierbo met 'n gepaste opskrif. (1)
- 2.3.2 Benoem die punt gemerk **C** uit die bostaande diagram (1)
- 2.3.3 Beskryf kortliks die term *tendenslyn*. (2)
- 2.3.4 Verduidelik die effek van 'n depressie op indiensnemingsvlakke. (2)
- 2.3.5 Hoe word die ekonomie geraak tydens die voorspoedsfase? (4)
- 2.4 Onderskei tussen *vrye* en *ekonomiese goedere*. (4 x 2) (8)
- 2.5 Ontleed die doeltreffendheid van die regering om omgewingsprobleme aan te spreek. (4 x 2) (8)
- [40]**

VRAAG 3: EKONOMIESE STREWES**40 PUNTE – 30 MINUTE**

3.1 Beantwoord die volgende vrae

3.1.1 Noem enige TWEE vakbonde in Suid-Afrika (2 x 1) (2)

3.1.2 Hoekom is dit belangrik vir die regering om die land se bevolkingsgroeikoers te skat? (1 x 2) (2)

3.2 Bestudeer die uittreksel hieronder en beantwoord die vrae wat volg.

BESTAANSLANDBOU

Bestaanslandbou vind plaas wanneer boere voedselgewasse plant om die behoeftes van hulself en hul gesinne te voorsien. Landbouers teiken plaasuitset vir oorlewing en meestal vir plaaslike vereistes met geen surplus nie. Bestaansboere is mense wat plant wat hulle eet.

Kenmerke oor die algemeen: klein kapitaal- of finansieringsvereistes, gemengde gewasse, beperkte gebruik van landbouchemikalieë (bv. plaagdoders en kunsmis) onverbeterde variëteite van gewasse en diere, min of geen surplus opbrengs vir verkoop, gebruik van ru- of tradisionele gereedskap (bv. Hoes, kapmes en snitte)

(Bron: <https://en.m.wikipedia.org/wiki/>)

3.2.1 Identifiseer die kenmerk van selfonderhoudende samelewings uit die uittreksel hierbo. (1)

3.2.2 Noem EEN kenmerk van bestaanslandbou. (1)

3.2.3 Beskryf kortliks die term *ruilhandel*. (2)

3.2.4 Watter positiewe impak het kommersiële boerdery op ekonomiese groei? (2)

3.2.5 Verduidelik die belangrikheid van taal en leer in die ontwikkeling van ekonomieë. (2 x 2) (4)

3.3 Bestudeer die tabel hieronder en beantwoord die vrae wat volg.

WERKSVOORWAARDES VAN UNIE EN NIE-UNIELEDE				
Gedeelte van werkers met:	Privaat Sektor		Openbare Sektor	
	Nie-vakbond	Unie	Nie-vakbond	Unie
Geskrewe kontrakte	83,3%	98,4%	99,7%	100,0%
Betaalde verlof	62,0%	92,5%	54,3%	97,8%
Permanente kontrakte	57,6%	91,0%	38,9%	96,5%
Bedinging raadsdekking	2,8%	8,2%	11,4%	35,5%
Geen loonbedinging van enige vorm nie	82,3%	8,3%	72,7%	2,5%

[Bron: Statistieke SA]

- 3.3.1 Identifiseer die persentasie van permanente nie-vakbondwerkers onder die openbare sektor uit die tabel hierbo? (1)
- 3.3.2 Waarvoor staan die afkorting KVBA? (1)
- 3.3.3 Beskryf kortliks die term *vakbonde*. (2)
- 3.3.4 Verduidelik die rede waarom werkers verkies om vakbondlede te wees. (2)
- 3.3.5 Hoe word arbitrasie gebruik om arbeidsgeskille op te los. (2 x 2) (4)
- 3.4 Bespreek *immigrasie* en *buitelanders* in terme van SA bevolkingsgrootte. (2 x 4) (8)
- 3.5 Evalueer die invloed van produktiwiteit en vaardighede op arbeid. (4 x 2) (8)

[40]


VRAAG 4: MAKRO-EKONOMIE EN EKONOMIESE STREWES 40 PUNTE – 30 MINUTE

4.1 Beantwoord die volgende vrae.

4.1.1 Noem enige TWEE studierigtings wat met Ekonomie verband hou. (2 x 1) (2)

4.1.2 Watter effek sal 'n resessie op besigheidsaktiwiteite hê? (1 x 2) (2)

4.2 Bestudeer die spotprent hieronder en beantwoord die vrae wat volg.



[Bron: Graad 10 ekonomie Geniet Handboek]

4.2.1 Identifiseer die primêre sektor industrie wat in bogenoemde spotprent uitgebeeld word. (1)

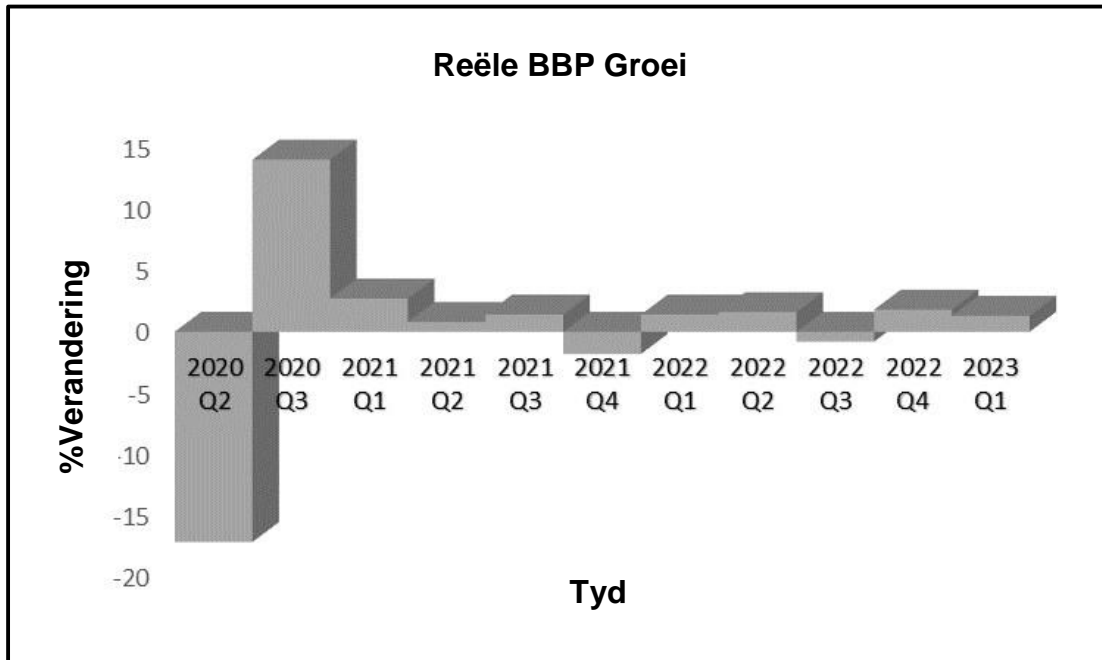
4.2.2 Noem EEN voorbeeld van natuurlike hulpbronne. (1)

4.2.3 Beskryf kortliks die term *sekondêre sektor*. (2)

4.2.4 Waarom moet gemeenskappe die land se natuurlike hulpbronne beskerm? (2)

4.2.5 Hoe gaan die regering die land se ekonomiese aktiwiteite verbeter. (2 x 2) (4)

4.3 Bestudeer die tabel hieronder en beantwoord die vrae wat volg.



- 4.3.1 Identifiseer die kwartaal met die hoogste reële BBP-groei. (1)
- 4.3.2 Wat word gemeet deur die horisontale lyn? (1)
- 4.3.3 Beskryf kortliks die term *bruto binnelandse produk*. (2)
- 4.3.4 Wat is die voordele van belegging in die vervaardigingsektor van die ekonomie? (2)
- 4.3.5 Verduidelik kortliks wat het die lae ekonomiese groeikoers in Suid-Afrika veroorsaak? (4)

- 4.4 Onderskei tussen *ekonomiese groei* en *ekonomiese ontwikkeling*. (2 x 4) (8)
 - 4.5 Hoe kan inspuitings tot 'n ekonomiese opswaai fase bydra? (2 x 4) (8)
- [40]**

TOTAAL AFDELING B: 80

AFDELING C

Beantwoord enige EEN van die twee vrae in hierdie afdeling in die ANTWOORDEBOEK.
Jou antwoord sal soos volg geassesseer word:

STRUKTUUR VAN OPSTEL:	PUNTE-TOEKENNING
Inleiding Die inleiding is 'n laer-orde antwoord. <ul style="list-style-type: none"> • 'n Goeie beginpunt sal wees om die sleutelkonsep wat met die vraag verband hou, te definieer of te omskryf. • MOENIE enige deel van die vraag by jou inleiding insluit NIE. • MOENIE enige deel van die inleiding in die liggaam herhaal NIE. • MOENIE in die inleiding noem wat jy in die liggaam gaan bespreek NIE. 	Maks. 2
Liggaam Hoofgedeelte: Bespreek in detail/Diepgaande bespreking/Ondersoek Bespreek /Krities/Analiseer/Vergelyk/Evalueer/Onderskei/Differensieer/ Assesseer/Debatteer 'n Maksimum van 8 punte mag vir opskrifte/voorbeelde toegeken word. Addisionele deel: Bespreek krities/Evalueer/ Evalueer krities/Lei af/ Vergelyk/ Onderskei/Stel voor/ Interpreteer/ Debatteer/Hoe 'n Maksimum van 2 punte kan vir die blote noem van feite toegeken word.	Maks. 26 Maks. 10
Slot Enige hoërorde-slot behoort die volgende in te sluit: <ul style="list-style-type: none"> • 'n Kort opsomming van wat bespreek is, sonder die herhaling van feite wat reeds genoem is • Enige mening/opinie waardeoordeel oor die feite wat bespreek is • Addisionele ondersteuning inligting om die bespreking/analise te versterk • 'n Teenstrydige sienswyse met motivering, indien gevra • Aanbevelings 	Maks 2
TOTAAL	40

VRAAG 5: MAKRO-EKONOMIE**40 PUNTE – 40 MINUTE**

- Bespreek in detail die vier deelnemers in die ekonomiese kringloop van 'n oop ekonomie. (26)
 - Hoe BRICS-lidmaatskap Suid-Afrika gehelp het met sy buitelandse sektor handelsverhoudinge? (10)
- [40]**

VRAAG 6: EKONOMIESE STREWES**40 PUNTE – 40 MINUTE**

- Bespreek die Suid-Afrikaanse arbeidsmag in detail. (26)
 - Wat is die impak van MIV en VIGS op die Suid-Afrikaanse ekonomie? (10)
- [40]**

TOTAAL AFDELING C: 40
GROOTTOTAAL: 150